


## فهرست مطالب

علائم	۷
طبقه‌ی ۱	۹
طبقه‌ی ۲	۲۹
طبقه‌ی ۳	۵۱
طبقه‌ی ۴	۷۱
طبقه‌ی ۵	۹۱
طبقه‌ی ۶	۱۱۱
طبقه‌ی ۷	۱۳۳
طبقه‌ی ۸	۱۵۵

### پاسخ‌نامه

طبقه‌ی ۱	۱۷۸
طبقه‌ی ۲	۱۸۱
طبقه‌ی ۳	۱۸۵
طبقه‌ی ۴	۱۸۹
طبقه‌ی ۵	۱۹۲
طبقه‌ی ۶	۱۹۶
طبقه‌ی ۷	۲۰۱
طبقه‌ی ۸	۲۰۴

# طبقه ی ۱



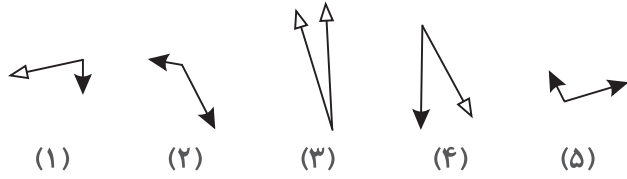
## مسیرزیرا دنبال کنید:

۱. هر طبقه ۶ پله دارد. برای انجام هر پله ۶ دقیقه زمان دارید.
  ۲. هر پله حداقل دو سؤال تمرینی، تحت عنوان دست‌گرمی دارد که قبل از شروع می‌توانید آنها را حل کنید. دقت کنید زمانی که صرف انجام سؤالات تمرینی می‌کنید، جزء آن ۶ دقیقه محسوب نمی‌شود.
  ۳. پاسخ هر سؤال را با مداد در پاسخ‌برگ علامت بزنید.
  ۴. برای هر سؤال فقط یک پاسخ صحیح وجود دارد.
  ۵. سعی کنید همه‌ی سؤالات را پاسخ دهید. اگر به پاسخ صحیح سؤال شک دارید، پاسخی که احتمال درست بودن آن را بیشتر می‌دانید علامت بزنید، بعد سراغ سؤال بعد بروید.
  ۶. مراحل حل سؤال را روی برگه‌ای دیگر به‌صورت جداگانه بنویسید.
- سؤالات را با دقت حل کنید اما سعی کنید تا جایی که می‌توانید سریع باشید.**



هوش نوردی

۳



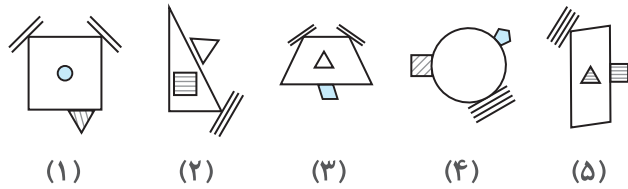
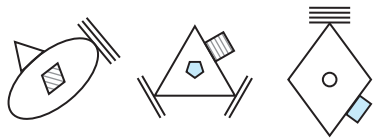
(۱) (۲) (۳) (۴) (۵)

۴



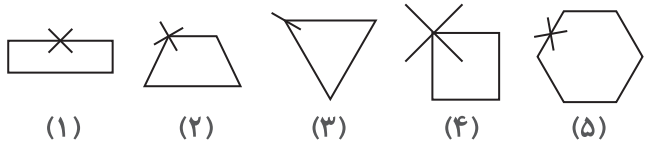
(۱) (۲) (۳) (۴) (۵)

۵



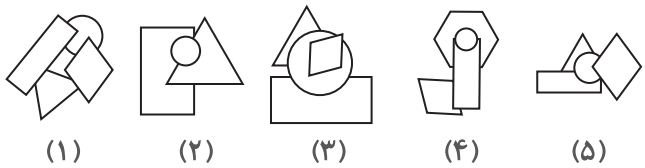
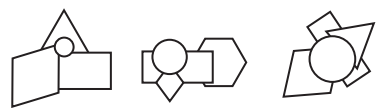
(۱) (۲) (۳) (۴) (۵)

۶



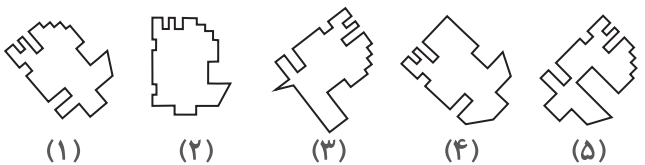
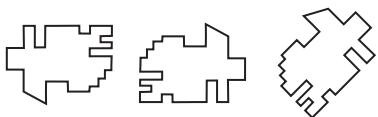
(۱) (۲) (۳) (۴) (۵)

۷



(۱) (۲) (۳) (۴) (۵)

۸

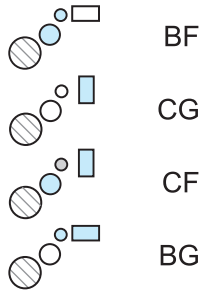


(۱) (۲) (۳) (۴) (۵)



۷

هوش نوردی

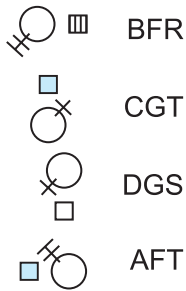


BF  
CG  
CF  
BG



BG (۱) CF (۲) CG (۳) BF (۴) BC (۵)

۸



BFR  
CGT  
DGS  
AFT



CGT (۱) CFR (۲) DFT (۳) DFR (۴) AFR (۵)

۹

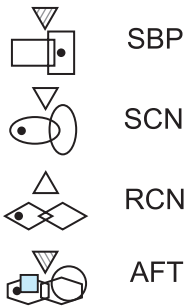


PZ  
MY  
LZ  
NX



NY (۱) MZ (۲) PX (۳) PY (۴) NX (۵)

۱۰

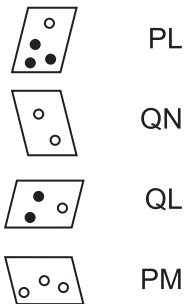


SBP  
SCN  
RCN  
AFT



RCN (۱) SCP (۲) RBP (۳) RCP (۴) RBN (۵)

۱۱



PL  
QN  
QL  
PM



QL (۱) QN (۲) PL (۳) PN (۴) QM (۵)

۱۲



FHN  
GHL  
FJL

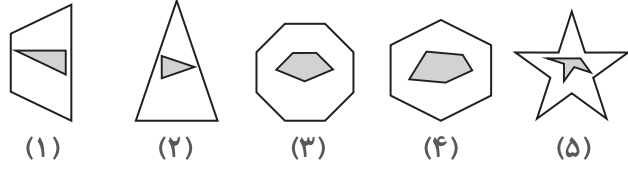


GJM (۱) FJM (۲) FHM (۳) GJN (۴) GHL (۵)

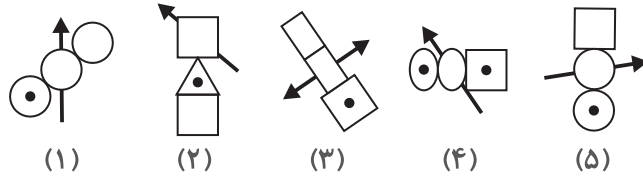
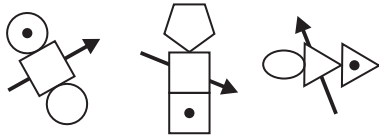


۳

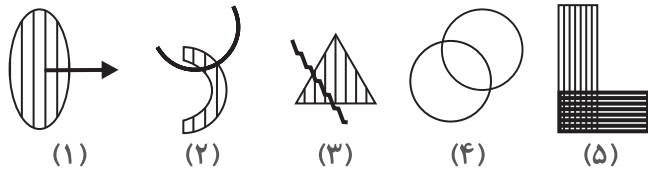
هوش نوردی



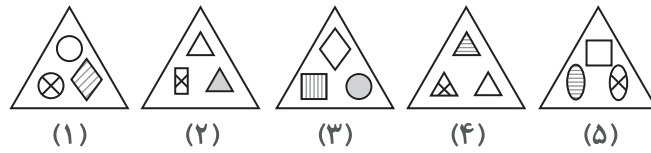
۴



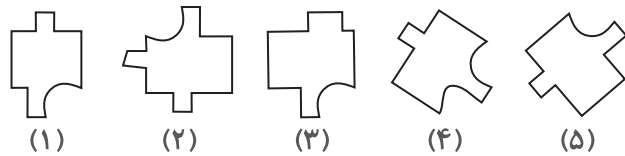
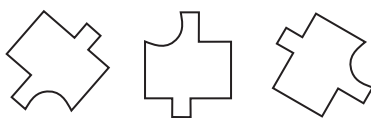
۵




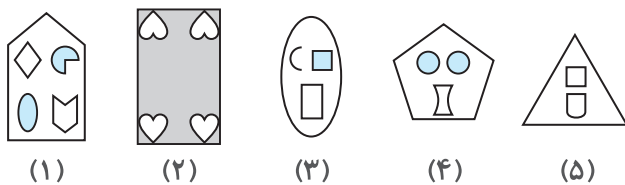
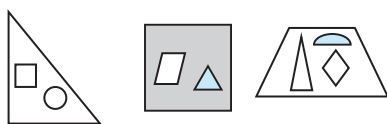
۶



۷



۸

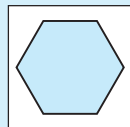
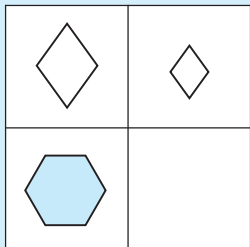


# جدول ۳ پله‌ی

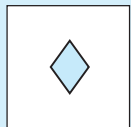


به مثال زیر توجه کنید.

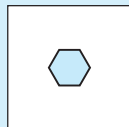
در سمت چپ سؤال زیر، یک مربع بزرگ داریم که از چهار مربع کوچک‌تر تشکیل شده و یکی از مربع‌های کوچک خالی است. کدام یک از پنج مربع سمت راست می‌تواند جای مربع خالی قرار بگیرد؟



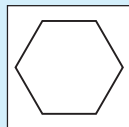
(۱)



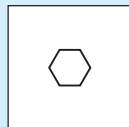
(۲)



(۳)



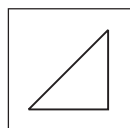
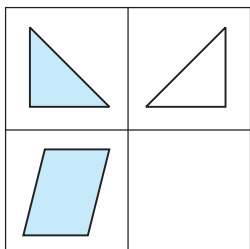
(۴)



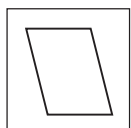
(۵)

پاسخ: گزینه‌ی ۳

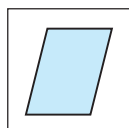
به سه سؤال تمرینی زیر پاسخ دهید.



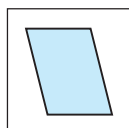
(۱)



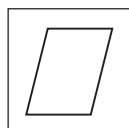
(۲)



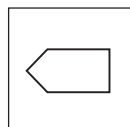
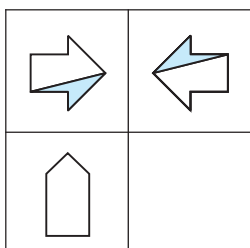
(۳)



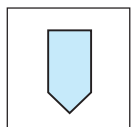
(۴)



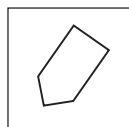
(۵)



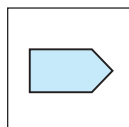
(۱)



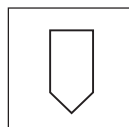
(۲)



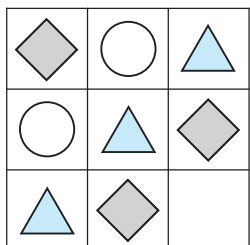
(۳)



(۴)



(۵)



(۱)



(۲)



(۳)



(۴)



(۵)

معماری

دست نوبی

دست نوبی

دست نوبی

