

۶

سنجاب

سنجس و ارزیابی بهینه

(ارزیابی مستمر ماهانه)

پویسی متفاوت در کار و تمرین

پایه سشم

- ۱) ارزیابی ماهانه تمام دروس
- ۲) پوشش تمام مطالب درسی
- ۳) مطابق زمان دانش آموز امروز
- ۴) مرور و تثبیت مطالب به بهترین شکل
- ۵) گام های موفق یادگیری در هر ماه
- ۶) تأثیرگذاری بیش تر با صرف زمان کم تر

برای اینکه ببینیم چقدر درس ها رو یاد گرفتیم، خوبه که هر چند وقت یکبار دانش خودمون رو بسنجیم
ما برای شما به بسته آماده کردیم که به بهترین شکل این کار رو انجام می دهد.

هر پرستی در حوزه آموزش ابتدایی دارید، لینک کانال های استاد مریم عزیزی (برگزارکننده دوره های ضمن خدمت فرهنگیان)
را در اینستاگرام پویس (pooyeshbook) دریافت کنید و همچنین علاوه بر محتوای آموزشی کانال ها، هر هفته در لایو رایگان که جهت دانش افزایی
توسط ایشان برگزار می شود، شرکت نمایید.



۱) درستی یا نادرستی عبارتهای زیر را مشخص کنید.

- (الف) یک هکتار برابر ۱۰۰ مترمربع است. درست نادرست
- (ب) زاویه‌ی بین عقربه‌های ساعت‌شمار و دقیقه‌شمار در ساعت ۴:۰۵، برابر ۱۰۵° است. درست نادرست

۲) جاهای خالی را با کلمات یا اعداد مناسب پر کنید.

- (الف) ۲۳۵۵ کیلوگرم برابر تن است.
- (ب)، خطی است که از وسط یک پاره‌خط بگذرد و بر آن عمود باشد.
- (ج) به دو عددی که با آن مکان نقطه را در صفحه‌ی شطرنجی تعیین می‌کنیم، آن نقطه می‌گوییم.

۳) گزینه‌ی صحیح را انتخاب کنید.

(الف) کدام شکل هندسی مرکز تقارن دارد ولی محور تقارن ندارد؟

- (۱) دوزنقه (۲) مثلث
- (۳) متوازی‌الاضلاع (۴) مستطیل
- (ب) متمم زاویه‌ای ۵۰ درجه است. مکمل آن چند درجه است؟

- (۱) ۴۰ (۲) ۱۴۰
- (۳) ۱۳۰ (۴) ۱۵۰

(ج) ۴ مترمکعب چند دسی‌مترمکعب است؟

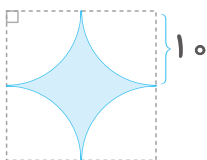
- (۱) ۴۰ (۲) ۴۰۰
- (۳) ۴۰۰۰ (۴) ۴۰۰۰۰

۴) (الف) چهارضلعی با مختصات $\begin{bmatrix} 5 \\ 3 \end{bmatrix}$ ، $\begin{bmatrix} 2 \\ 1 \end{bmatrix}$ ، $\begin{bmatrix} 5 \\ 1 \end{bmatrix}$ و $\begin{bmatrix} 2 \\ 3 \end{bmatrix}$ را رسم کنید.

(ب) نام این چهارضلعی چیست؟

(ج) مساحت آن را پیدا کنید.

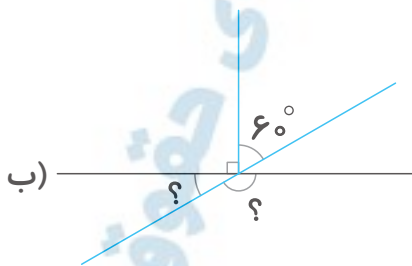
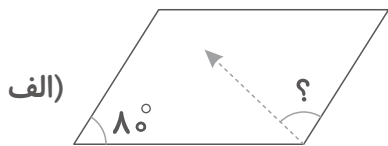
۵) محیط و مساحت شکل زیر را پیدا کنید.



۶ اندازه‌ی زاویه‌های خواسته‌شده را به دست آورید. (خط‌چین‌ها نیمساز هستند)

اردیبهشت

ماه



.....
.....

.....
.....

۷ حاصل عبارت زیر را به دست آورید و حاصل را با تقریب کمتر از ۱/۰ گرد کنید.

$$\frac{7/4 - (3/2 \times 1/3)}{0/032} =$$

۸ عدد ۳ چند درصد عدد ۲۴ است؟

۹ در پرتاب یک تاس، احتمال رخ دادن چه اتفاقی برابر نصف است؟ (ذکر یک مورد کافی است.)



۱۰ علی کتابی را با ۲۰٪ تخفیف خریداری کرد و ۴۰۰۰۰ تومان به فروشنده پرداخت کرد. قیمت

اصلی کتابی چند تومان بوده است؟

ارزشیابی ریاضی

بازخورد آموزگار

اهداف آموزشی

با مفهوم تقارن آشناست.
تبدیل واحد را به خوبی انجام می‌دهد.
سوالات مربوط به محیط و مساحت را حل می‌کند.
به سوالات مربوط به مختصات، زاویه، احتمال و تقریب پاسخ می‌دهد.

اردیبهشت

ماه

نام:

نام خانوادگی:

ارزشیابی علوم پایه ششم دبستان

نام معلم:

۱ گزینه‌ی درست را انتخاب کنید.

الف) کدام مورد از وسایل ارتباطی در گذشته است؟

- (۱) تلفن
 (۲) تلگراف
 (۳) اینترنت
 (۴) تلفن همراه

ب) در کدام گزینه انرژی حرکتی به انرژی گرمایی تبدیل می‌شود؟

- (۱) مالیدن دست به هم
 (۲) سوختن بنزین در خودرو
 (۳) ضربه با مداد به لیوان
 (۴) روشن کردن چراغ قوه

ج) کدام یک از محیط‌های زیر به صورت طبیعی به وجود آمده است؟

- (۱) بوستان
 (۲) جنگل
 (۳) باغ وحش
 (۴) استخر پرورش ماهی

۲ جاهای خالی را کامل کنید.

الف) به یاخته‌های اطراف روزنه گفته می‌شود.

ب) ناقل بیماری هاری و ناقل بیماری نوعی پشه‌ی آنوفل است.

ج) رابطه‌ی غذایی جانوران نام دارد.

د) فتوسنتز با تولید گاز به کاهش آلودگی هوا کمک می‌کند.

ه) کمبود باعث نرمی استخوان می‌شود.

۳ درستی یا نادرستی عبارت‌های زیر را مشخص کنید.

الف) در باتری انرژی ذخیره می‌شود.

ب) در رابطه‌ی بین اسب و مگس هر دو جانور سود می‌برند.

ج) ویروس آنفلوآنزا در یاخته‌های بینی قرار می‌گیرد.

د) میکروب سل در شش‌ها قرار می‌گیرد.

ه) قارچ‌ها بقایای موجودات زنده را تجزیه می‌کنند.

۴ میکروسکوپ چه کاربردی دارد؟

- | | |
|----------------------------|------------------------------|
| <input type="radio"/> درست | <input type="radio"/> نادرست |
| <input type="radio"/> درست | <input type="radio"/> نادرست |
| <input type="radio"/> درست | <input type="radio"/> نادرست |
| <input type="radio"/> درست | <input type="radio"/> نادرست |
| <input type="radio"/> درست | <input type="radio"/> نادرست |

اردیبهشت

ماه

بودجه‌بندی: درس‌های هشتم تا چهاردهم



ارزشیابی علوم

اردیبهشت

ماه

۵ پادتن چیست و چگونه در بدن تولید می‌شود؟

۶ فتوستنز را تعریف کنید.

۷ چرا در جنگل‌های کاج تنوع گیاهان کم است؟

۸ اولین میکروسکوپ توسط چه کسی و چگونه ساخته شد؟

۹ تبدیل انرژی در بدن کرم شب‌تاب و سفره‌ماهی چگونه است؟



بازخورد آموزگار

اهداف آموزشی

بر مفاهیم و مثال‌های تبدیل انرژی تسلط دارد.
 کاربرد میکروسکوپ را به درستی بیان می‌کند.
 مفهوم فتوستنز و اهمیت آن را می‌داند.
 در مورد ارتباط غذایی و زندگی جانوران تسلط دارد.
 مفهوم پادتن و چگونگی تولید آن در بدن را می‌داند.
 بر تغییر وسایل ارتباطی از گذشته تا آینده تسلط دارد.

۸ آرایه‌ی ادبی را در هر قسمت مشخص کنید.

الف) گل به خنده گفت: زندگی شکفتن است (شخصیت‌بخشی - تشبیه)

ب) شهدا خورشیدند (شخصیت‌بخشی - تشبیه)

۹ شعر را کامل و قافیه‌ها را مشخص کنید.

..... ، پیشه نیست

ز کژی بتر، نیست

..... کژ ز بیچارگی است

..... بر، باید گریست»

۱۰ مفهوم «تا» را در هر یک از جمله‌ها مشخص کنید.

الف) از شام تا سحر بیمار بود.

ب) چند تا کتاب خواندی؟

۱۱ متنی بنویسید و در آن در مورد ارزش کسب علم توضیح دهید.



بازخورد آموزگار

اهداف آموزشی

مترادف، متضاد و هم‌خانواده را به درستی پاسخ می‌دهد.
در جمله‌سازی و درک مطلب توانایی دارد.
در املاي کلمات مهارت لازم را دارد.
در تشخیص آرایه‌ها توانایی دارد.
در بندنویسی توانایی لازم را دارد.
شعر را کامل و قافیه را مشخص می‌کند.
در تشخیص مفهوم «ت» تبحر دارد.



۱ گزینه‌ی صحیح را انتخاب کنید.

الف) بیشتر نفوذ و دخالت بیگانگان در کشور ما در کدام حکومت‌ها بوده است؟

- (۱) قاجاریه
○ (۲) پهلوی
○ (۳) زندیه
○ (۴) گزینه‌های (۱) و (۲)

ب) کدام دریا بزرگ‌ترین منبع ماهیان خاویاری در جهان است؟

- (۱) خزر
○ (۲) خلیج فارس
○ (۳) عمان
○ (۴) گزینه‌های (۲) و (۳)

ج) اختراع دستگاه چاپ به وسیله‌ی بود.

- (۱) ادیسون
○ (۲) گالیله
○ (۳) گوتنبرگ
○ (۴) هیچ‌کدام

۲ جاهای خالی را کامل کنید.

الف) بندر خرمشهر محلّ برخورد دو رود و است.

ب) رزمندگان اسلام با همکاری نیروی هوایی ارتش در عملیات توانستند خرمشهر را آزاد کنند.

ج) کوه بخشی از مرز ایران و ترکیه را تشکیل می‌دهد.

د) به آبراهه‌ای که دو دریا را به هم وصل می‌کند، می‌گویند.

ه) در افغانستان سال رسمی با آغاز می‌شود.

۳ درستی یا نادرستی عبارت‌های زیر را مشخص کنید.

الف) ۳۱ شهریور سال ۱۳۵۹ آغاز جنگ تحمیلی ایران و عراق بود. درست نادرست

ب) خطّ مرزی فقط روی زمین تعیین می‌شود. درست نادرست

ج) پس از تولید نخ در کارخانه‌ی نخ‌ریسی، نخ‌ها به نساجی فرستاده می‌شوند. درست نادرست

د) ایران از شمال و جنوب به دریاها دسترسی دارد. درست نادرست

ه) همه‌ی مردم ارمنستان مسلمان هستند. درست نادرست

۴ استعمارگر به چه کشورهایی گفته می‌شود؟

۵ مرز را تعریف کنید.

۶ دریا و اقیانوس چه تفاوتی با هم دارند؟

۷ عمده‌فروش به کدام فروشندگان گفته می‌شود؟

۸ یک مورد از علت‌های حمله‌ی نظامی عراق به ایران را بنویسید.

۹ چرا در کشور ایران لباس‌های محلی مختلف وجود دارد؟ انواع لباس‌های محلی را در کجا می‌توانیم مشاهده کنیم؟



بازخورد آموزگار

اهداف آموزشی

با روند خط تولید و مفهوم عمده‌فروشی آشنا است. اطلاعات کافی در مورد انواع لباس و تغییرات لباس در کشور دارد.

با ویژگی دریا‌های ایران و اهمیت آن‌ها آشنا است. اطلاعات کافی در مورد مرز و همسایگان ایران دارد. با ایجاد استعمارگری و مفهوم استعمار آشنایی دارد. اطلاعات کافی در مورد اشغال و آزادسازی خرمشهر دارد.